


GUÍA N°1 - NÚMEROS

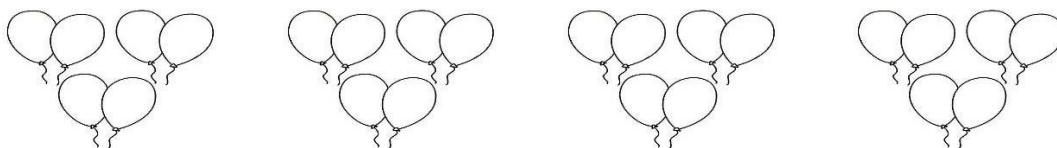
I. Vamos a contar

1. Observa los gorros de cumpleaños que había en la fiesta de Ernesto, cuéntalos de 2 en 2 y luego completa la tabla.



2	4				12		
---	---	--	--	--	----	--	--

2. En la fiesta había muchos globos. Cada invitado reventó dos globos, retrocede contando de 2 en 2 y completa para saber cuántos quedaron.



						22	24
--	--	--	--	--	--	----	----

3. A cada uno de los invitados le dio una bolsita con caramelos, cada una tenía 10 caramelos. Cuenta de 10 en 10 los caramelos que regaló Ernesto.


10	20				
----	----	--	--	--	--

4. Cuenta y escribe la cantidad de cada grupo.

a)



b)



II. Marca con una X la alternativa correcta

1. ¿Qué número es 2 más que 35?

- a) 33
- b) 36
- c) 37

2. Manuel estaba ordenando las siguientes tarjetas, pero cometió un error.

¿Cuál es la que no corresponde?



- a) 55
- b) 45
- c) 44

3. Pedro recolecta conchitas en la playa. Tenía 20 y encontró 9 más. ¿Cuántas conchitas tiene en total?

- a) 209
- b) 29
- c) 92

4. ¿Cuánto suman 8 y 30?

- a) 38
- b) 83
- c) 830

5. ¿Qué número tiene 1 decena y 4 unidades?

- a) 14
- b) 104
- c) 41

6. En una escuela de fútbol hay 27 niños. Si 12 de ellos entrenan en la mañana.

¿Cuántos entrenan en la tarde?

- a) 10
- b) 15
- c) 17

III. Resuelve los siguientes problemas. Realiza un desarrollo y responde en forma completa.


1. Tengo 12 lápices de colores y me regalaron 10 más. ¿Cuántos lápices tengo ahora en mi estuche?

Respuesta: _____

2. Ayuda a Marcos a contar de 10 en 10 para saber cuánto dinero tiene.



Marco tiene \$ _____

3. Dibuja las  que faltan para completar 32.

