




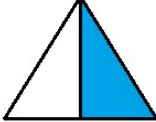

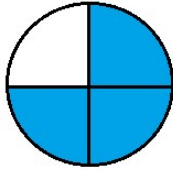
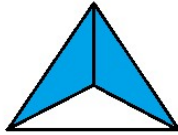


Guía - Matemática

1.- Une el nombre de cada fracción con su representación pictórica y simbólica:

Tres tercios		$\frac{1}{3}$
Un cuarto		$\frac{3}{3}$
Un tercio		$\frac{2}{2}$
Tres cuartos		$\frac{1}{2}$
Dos medios		$\frac{4}{4}$
Un medio		$\frac{1}{4}$
Cuatro cuartos		$\frac{2}{4}$
Dos tercios		$\frac{2}{3}$
Dos cuartos		$\frac{3}{4}$

2.- Escribe la fracción que corresponde.

cuatro séptimos -----	tres octavos -----	cinco onceavos -----
un quinto -----	cinco novenos -----	ocho doceavos -----
cinco sextos -----	cuatro décimos -----	dos séptimos -----

3.- Escribe las siguientes fracciones:

A. Un medio _____

B. Dos sextos _____

C. Tres octavos _____

D. Cuatro quintos _____

4.- Completa el con los signos <, > ó =

a) $\frac{1}{3}$ $\frac{4}{5}$

b) $\frac{4}{9}$ $\frac{3}{8}$



c) $\frac{2}{7}$ $\frac{4}{9}$




d) $\frac{8}{9}$ $\frac{14}{18}$




e) $\frac{7}{12}$ $\frac{3}{7}$

f) $\frac{4}{13}$ $\frac{3}{4}$

5.- Escribe en el recuadro de la derecha, la fracción que está representada en cada una de las siguientes cuadrículas:

a)  

b)   

c)   

6.- Una máquina $\frac{2}{3}$ ha producido 36 piezas en 3 horas, ¿cuántas producirá en 5 horas?

- A. 50
- B. 60
- C. 70
- D. 80

7.- Un bus recorre 630 km en 7 horas. ¿Cuántos km había recorrido en las primeras 4 horas?

- A. 270
- B. 360
- C. 450
- D. 540

8.- La razón entre el largo y ancho de los lados de un rectángulo es 5 : 3.

Si el ancho mide 24 m, ¿cuánto mide el largo?

- A. 30 m
- B. 35 m
- C. 40 m
- D. 45 m

9.- 3 niños demoran 6 horas en pintar una pieza. ¿Cuánto tardarán en pintar las 5 piezas?

- A. 25 horas
- B. 30 horas
- C. 35 horas
- D. 40 horas

10.- En el zoológico ocupan 36 kg de carne para alimentar a 3 leones cada día. Si la población de leones aumenta a 5, ¿cuánta carne tendrán que comprar para cada día?

- A. 60 kg
- B. 55 kg
- C. 50 kg
- D. 45 kg